







Sjov Addition

Find det manglende tal for at fuldføre
additionen!





1.  +  _____  6

2.      +  _____  9

3.     +  _____  5

4.  +  _____  3

5.    +  _____  8

6.     +  _____  8