





Hvert billede betyder 5

Navn: _____ Dato: _____

★ Hvert billede står for 5! Skriv det rigtige antal for hver række.

		_____
		_____
		_____
		_____
	= 5	

	=	<input type="text"/>
	=	<input type="text"/>
	=	<input type="text"/>
	=	<input type="text"/>