






Tæl i grupper

Navn: _____ Dato: _____

★ Hver kasse har det samme antal. Tæl i spring, og skriv den løbende sum.

				
5	<input type="text"/>	<input type="text"/>	<input type="text"/>	<input type="text"/>