












Hemmeligt Ord Addition




Løs hver opgave for at afsløre et bogstav.
Hvad er det hemmelige ord?




5 4 3 6 10




    

 +  +  = →

 +  +  = →

 +  +  = →

 +  +  = →

 +  +  = →

H=17 E=20 M=11 L=14 B=9 A=26 R=16 P=13