







# Hemmelig Kode Addition



Knæk koden! Find tallet for hvert symbol!





1.   $+$    $= 17$

2.   $+$    $= 15$

3.   $+$    $= 10$

4.   $+$    $= 15$

5.   $+$    $= 11$