

# Skattejagt

Følg sporene og find skatten!


























Start ved A5.

Flyt ned 1 felt.

Flyt til venstre 1 felt.

Flyt ned 3 felter.

Flyt til venstre 2 felter Hvor er skatten?

|   | 1   | 2   | 3   | 4  | 5   |
|---|---|---|---|--|---|
| A |   |  |   |  |   |
| B |  |  |  |  |  |
| C |  |  |  |  |  |
| D |  |  |  |  |  |
| E |  |  |  |  |  |