

Skattejagt

Følg sporene og find skatten!


























Start ved B3.

Flyt ned 2 felter.

Flyt op 2 felter.

Flyt til venstre 1 felt.

Flyt ned 2 felter Hvor er skatten?

| | 1 | 2 | 3 | 4 | 5 |
|---|---|---|---|--|---|
| A |  |  |  |  |  |
| B |  |  |  |  |  |
| C |  |  |  |  |  |
| D |  |  |  |  |  |
| E |  |  |  |  |  |