

# Skattejagt

Følg sporene og find skatten!


























Start ved C3.

Flyt op 2 felter.

Flyt ned 2 felter.

Flyt op 1 felt.

Flyt til højre 2 felter Hvor er skatten?

|   | 1   | 2   | 3   | 4  | 5   |
|---|---|---|---|--|---|
| A |   |   |   |   |   |
| B |  |  |  |  |  |
| C |  |  |  |  |  |
| D |  |  |  |  |  |
| E |  |  |  |  |  |