

Skattejagt

Følg sporene og find skatten!


























Start ved D3.

Flyt vestpå 1 felt.

Flyt østpå 1 felt.

Flyt østpå 1 felt.

Flyt sydpå 1 felt Hvor er skatten?

| | 1 | 2 | 3 | 4 | 5 |
|---|---|---|---|--|---|
| A |  |  |  |  |  |
| B |  |  |  |  |  |
| C |  |  |  |  |  |
| D |  |  |  |  |  |
| E |  |  |  |  |  |