

# Skattejagt

Følg sporene og find skatten!


























Start ved C5.

Flyt nordpå 1 felt.

Flyt vestpå 3 felter.

Flyt nordpå 1 felt.

Flyt østpå 3 felter Hvor er skatten?

|   | 1   | 2   | 3   | 4  | 5   |
|---|---|---|---|--|---|
| A |   |  |   |   |  |
| B |  |  |  |  |  |
| C |  |  |  |  |  |
| D |  |  |  |  |  |
| E |  |  |  |  |  |