







Sjov Subtraktion

Find det manglende tal for at fuldføre subtraktionen!

1.  -  ___  1

2.  -  ___  1

3.  -  ___  8

4.  -  ___  3

5.  -  ___  2

6.  -  ___  3