




# Jedes Bild steht für 5


Name: \_\_\_\_\_ Datum: \_\_\_\_\_


★ Jedes Bild steht für 5! Schreibe die echte Anzahl für jede Reihe auf.


 \_\_\_\_\_


 \_\_\_\_\_


 \_\_\_\_\_


 \_\_\_\_\_

 = 5

 =

 =

 =

 =