



Aufteilen

Name: _____ Datum: _____




Verteile den Haufen gerecht auf die Kisten. Schreibe auf, wie viele jede bekommt.

1




$$15 \div 3 = \square$$

2



$$9 \div 3 = \square$$

3



$$20 \div 4 = \square$$

4



$$16 \div 4 = \square$$