


# Große Punktefelder

Name: \_\_\_\_\_ Datum: \_\_\_\_\_

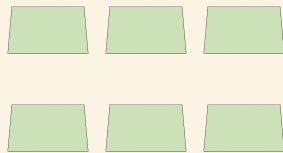


Zähle die Reihen mit Bildern. Schreibe auf, wie viele es zusammen sind.

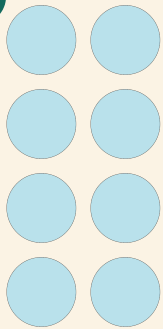
1



2



3



4

