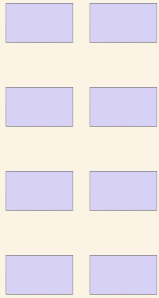


Reihen zählen

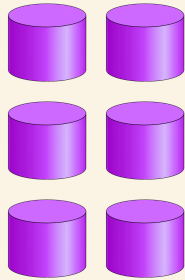
Name: _____ Datum: _____

 Zähle die Reihen mit Bildern. Schreibe auf, wie viele es zusammen sind.


1



2



3



4

