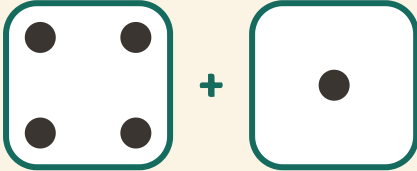


# Würfeln und Addieren

Name: \_\_\_\_\_ Datum: \_\_\_\_\_

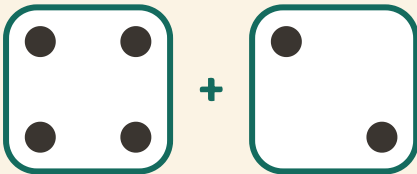
★ Zähle die Punkte auf beiden Würfeln. Schreibe die Summe auf.

1



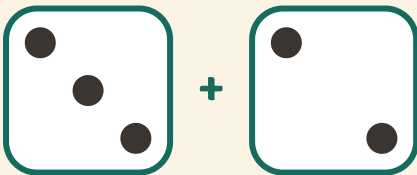
$$4 + 1 = \square$$

2



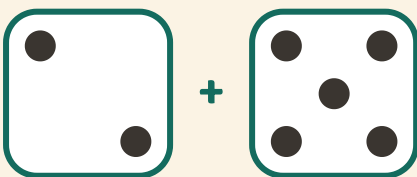
$$4 + 2 = \square$$

3



$$3 + 2 = \square$$

4



$$2 + 5 = \square$$