


Gerecht teilen

Name: _____ Datum: _____




Verteile den Haufen gerecht auf die Kisten. Schreibe auf, wie viele jede bekommt.

1



$$12 \div 3 = \square$$

2




$$9 \div 3 = \square$$

3



$$20 \div 4 = \square$$

4



$$16 \div 4 = \square$$