


Das Spiegelbild finden

Name: _____ Datum: _____




Kreise das Bild ein, das auf beiden Seiten gleich aussieht.


1



2



3



4

