


Das Spiegelbild finden

Name: _____ Datum: _____



Kreise das Bild ein, das auf beiden Seiten gleich aussieht.


1




2



3



4



5

