




# Mathe-Übungsblatt

Zähle, addiere und subtrahiere, um  
Matheaufgaben zu lösen!

## Aufgabe 1

 +  -  = 2

 +  = 4

 +  = 6



$= \square$



$= \square$



$= \square$