



Welche Gruppe hat weniger?


Name: _____ Datum: _____

★ Schau dir beide Gruppen an. Kreise die Gruppe mit WENIGER ein.

1



2



3

