

# Schatzsuche

Folge den Hinweisen und finde den Schatz!





















Beginne bei C3.

Gehe nach oben 1 Feld.

Gehe nach links 2 Felder.

Gehe nach unten 1 Feld.

Gehe nach rechts 2 Felder Wo ist der Schatz?

	1	2	3	4	5
A					
B					
C					
D					
E	