


# Einen Zehner bündeln

Name: \_\_\_\_\_ Datum: \_\_\_\_\_




Kreise 10 Einer zu einem Zehner ein. Schreibe auf, wie viele Zehner und Einer es sind.

1




$$\square \times 10 + \square$$

2




$$\square \times 10 + \square$$

3



$$\square \times 10 + \square$$

4



$$\square \times 10 + \square$$