





Ich sehe was

Zeichne ein Quadrat um alle Saugglocken. Streiche alle Nägel durch. Zähle alle Wasserwaagen. Kreise alle Leiter ein.



 = 6  = 3  = 5  = 6