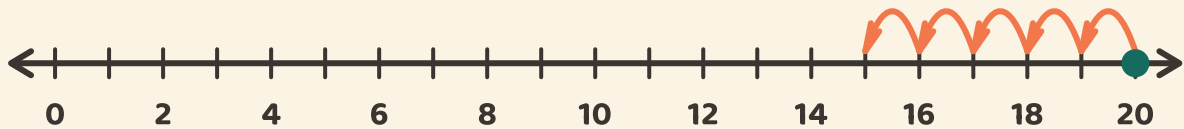


# Rückwärtszählen

Name: \_\_\_\_\_ Datum: \_\_\_\_\_

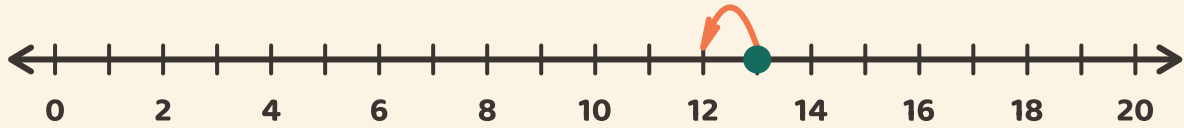
★ Starte beim Punkt. Hüpfе rückwärts und schreibe auf, wo du landest.

1



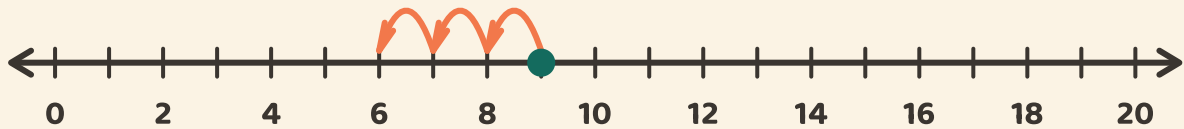
→

2



→

3



→