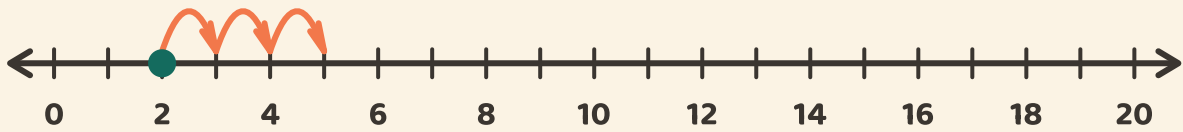


Hüpfen auf dem Zahlenstrahl

Name: _____ Datum: _____

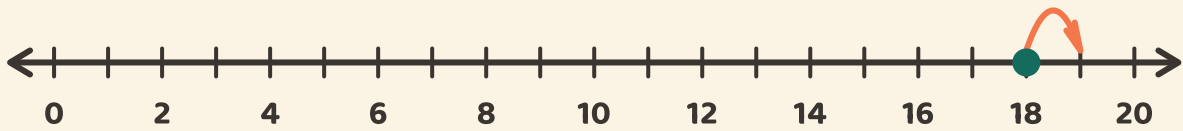
★ Starte beim Punkt. Zähle die Sprünge. Schreibe das Plus-Ergebnis auf.

1



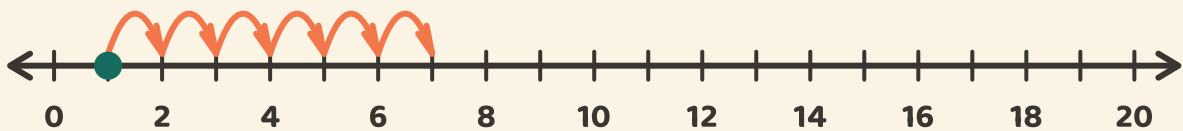
$$2 + 3 = \square$$

2



$$18 + 1 = \square$$

3



$$1 + 6 = \square$$