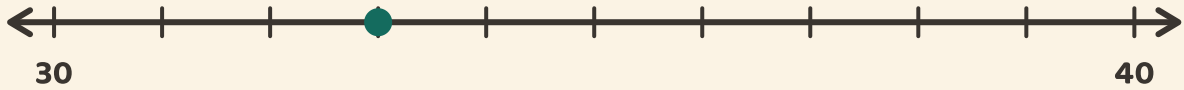


Auf Zehner runden

Name: _____ Datum: _____

★ Schau auf den Punkt. Kreise den Zehner ein, der näher liegt.

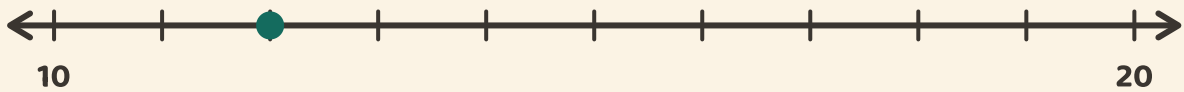
1



40

30

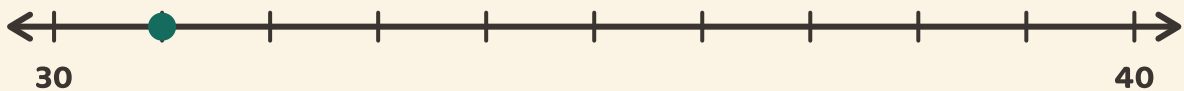
2



10

20

3



30

40