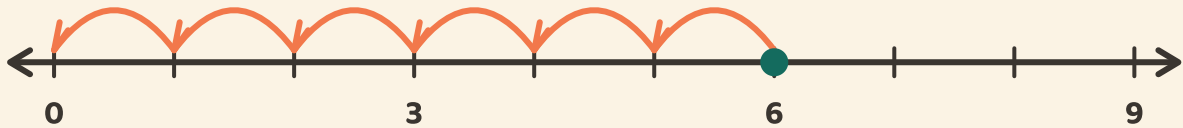


# Sprünge bis zur Null

Name: \_\_\_\_\_ Datum: \_\_\_\_\_

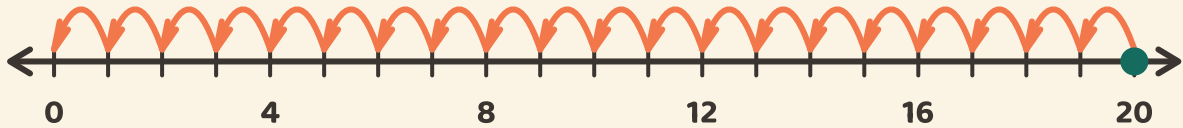
★ Zähle die gleichen Sprünge zurück bis zur Null. Schreibe auf, wie viele es sind.

1



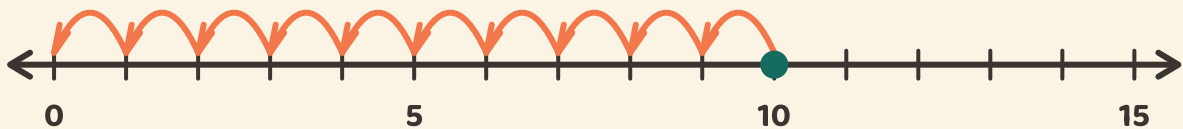
$$6 \div 3 = \square$$

2



$$20 \div 4 = \square$$

3



$$10 \div 5 = \square$$