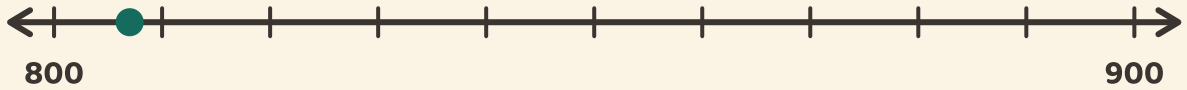


Auf Hunderter runden

Name: _____ Datum: _____

★ Schau auf den Punkt. Kreise den Hunderter ein, der näher liegt.

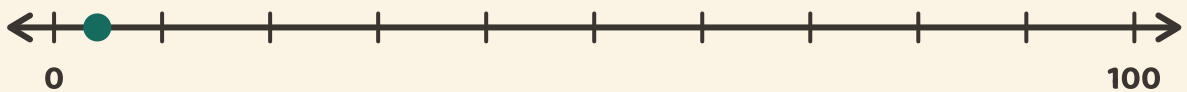
1



900

800

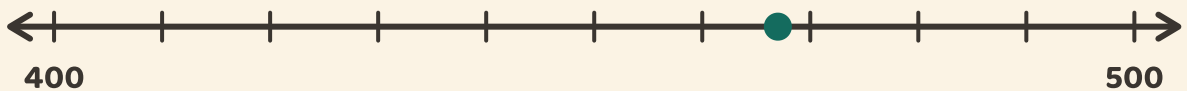
2



100

0

3



400

500