

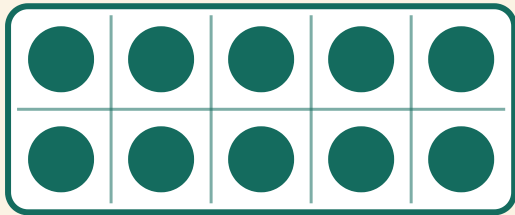
Ergänzen bis 10

Name: _____ Datum: _____



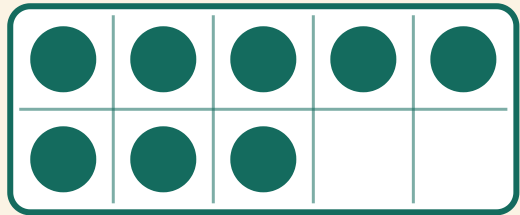
Wie viele Punkte fehlen noch bis 10? Schreibe die fehlende Zahl auf.

1



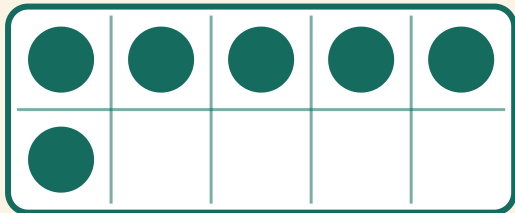
$$10 + \boxed{} = 10$$

2



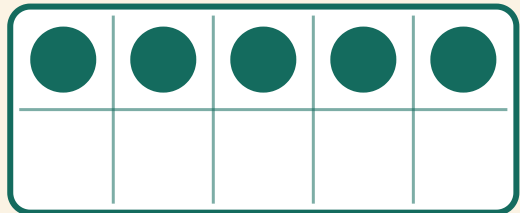
$$8 + \boxed{} = 10$$

3



$$6 + \boxed{} = 10$$

4



$$5 + \boxed{} = 10$$