





# Veo Veo

Pon un cuadrado alrededor de todos los Buitres. Circula todos los Perros. Cuenta todos los Alces. Tacha todos los Antílopes.



 = 5     = 2     = 1     = 5