





Veo Veo

Tacha todos los Kiwis. Pon un cuadrado alrededor de todas las Limas. Circula todas las Peras. Cuenta todas las Papayas.



 = 4  = 3  = 4  = 5