



# ¿Cuál tiene menos?


Nombre: \_\_\_\_\_ Fecha: \_\_\_\_\_

★ Mira los dos grupos. Rodea el grupo que tiene MENOS.

1



2



3

