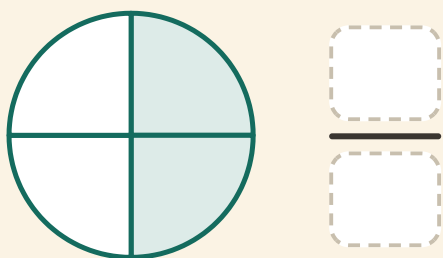


Nombra la fracción

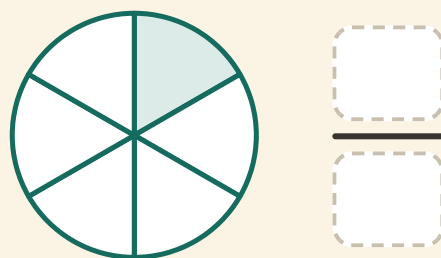
Nombre: _____ Fecha: _____

★ Escribe la fracción que muestran las partes sombreadas.

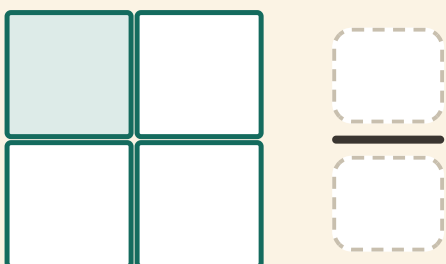
1



2



3



4

