



Fracciones en la recta

Nombre: _____ Fecha: _____

★ El punto marca una fracción. Rodea cuál es.

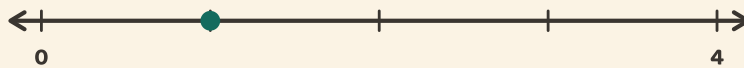
1

0 → 1 in 3 steps



2

0 → 1 in 4 steps



3

0 → 1 in 4 steps



4

0 → 1 in 3 steps

