


¿Eje de simetría?


Nombre: _____ Fecha: _____

★ ¿La línea punteada es un eje de simetría? Rodea el visto o la cruz.


1



2



3



4

