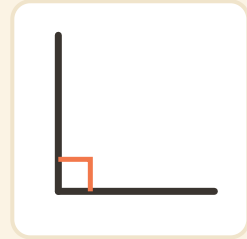
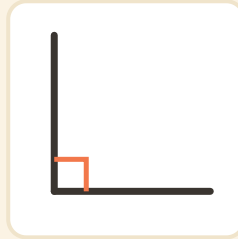
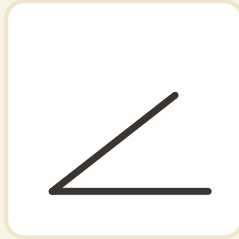
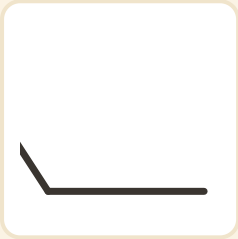


Caza de ángulos rectos

Nombre: _____ Fecha: _____

★ Rodea cada ángulo RECTO (los que tienen el cuadradito).

1



2

