




# Cada dibujo vale 5


Nombre: \_\_\_\_\_ Fecha: \_\_\_\_\_


★ ¡Cada dibujo vale 5! Escribe el conteo real de cada fila.


Row 1:  \_\_\_\_\_


Row 2:  \_\_\_\_\_


Row 3:  \_\_\_\_\_


Row 4:  \_\_\_\_\_

 = 5

 =

 =

 =

 =