





Cada dibujo vale doble

Nombre: _____ Fecha: _____

★ ¡Cada dibujo vale 2! Escribe el conteo real de cada fila.

	    
	     
	  
	 
	= 2

	=	<input type="text"/>
	=	<input type="text"/>
	=	<input type="text"/>
	=	<input type="text"/>