





Cada dibujo vale 5

Nombre: _____ Fecha: _____

★ ¡Cada dibujo vale 5! Escribe el conteo real de cada fila.

	 
	
	  
	   
	= 5

	=	<input type="text"/>
	=	<input type="text"/>
	=	<input type="text"/>
	=	<input type="text"/>