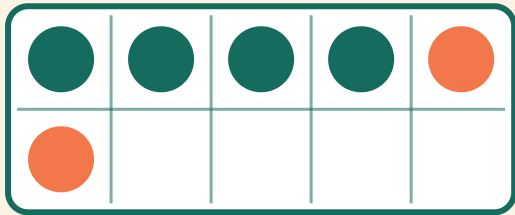


# Suma con marco de diez

Nombre: \_\_\_\_\_ Fecha: \_\_\_\_\_


★ Cuenta los dos colores. Escribe el resultado de la suma.

1



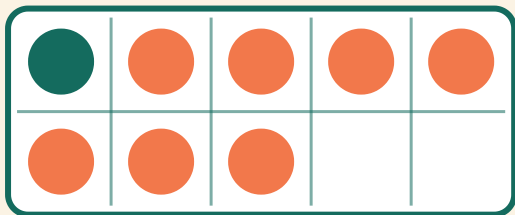
$$4 + 2 = \square$$

2




$$8 + 1 = \square$$

3



$$1 + 7 = \square$$

4



$$8 + 2 = \square$$