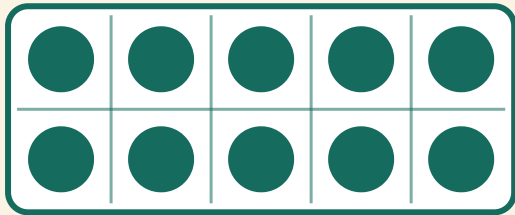


Forma 10

Nombre: _____ Fecha: _____

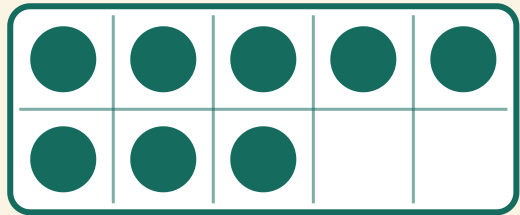
★ ¿Cuántos puntos más para formar 10? Escribe el número que falta.

1



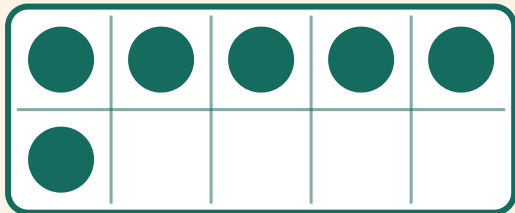
$$10 + \boxed{} = 10$$

2



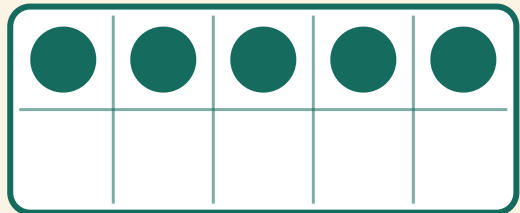
$$8 + \boxed{} = 10$$

3



$$6 + \boxed{} = 10$$

4



$$5 + \boxed{} = 10$$