

# De sumar a multiplicar

Nombre: \_\_\_\_\_ Fecha: \_\_\_\_\_


★ Cuenta los grupos iguales. Completa la multiplicación.

1




$$2 \times 2 = \square$$

2




$$3 \times 3 = \square$$

3



$$4 \times 2 = \square$$

4



$$2 \times 2 = \square$$