


Reparte por igual

Nombre: _____ Fecha: _____


★ Reparte el montón por igual en los cestos. Escribe cuántos toca a cada uno.

1



$$12 \div 3 = \square$$

2





$$9 \div 3 = \square$$

3



$$20 \div 4 = \square$$

4



$$16 \div 4 = \square$$