


¿Cuántos grupos?

Nombre: _____ Fecha: _____


★ Los anillos forman grupos iguales. Escribe cuántos grupos hay.

1




$$12 \div 4 = \square$$

2




$$4 \div 2 = \square$$

3



$$8 \div 4 = \square$$

4



$$12 \div 4 = \square$$