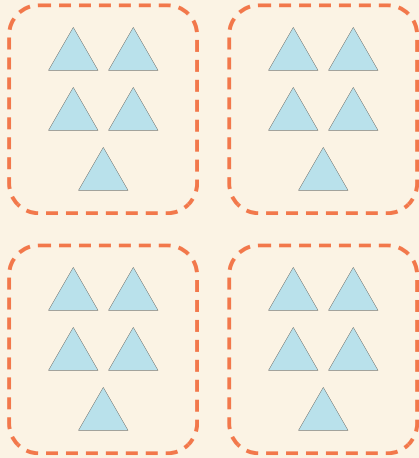


Grupos fáciles

Nombre: _____ Fecha: _____

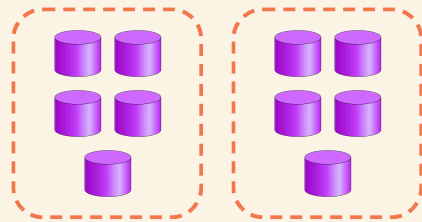
★ Cuenta los grupos iguales. Completa la multiplicación.

1



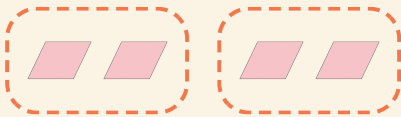
$$4 \times 5 = \square$$

2



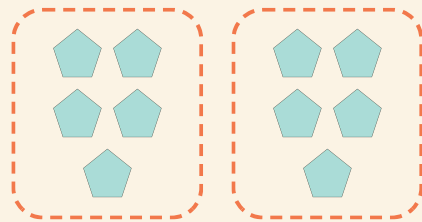
$$2 \times 5 = \square$$

3



$$2 \times 2 = \square$$

4



$$2 \times 5 = \square$$