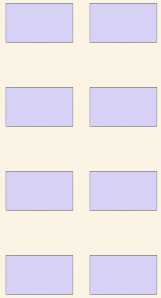


# Cuenta el arreglo

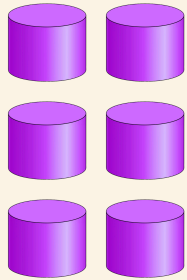
Nombre: \_\_\_\_\_ Fecha: \_\_\_\_\_

 Cuenta las filas de dibujos. Escribe cuántos hay en total.


1



2



3



4

