

Matemáticas con dominó

Nombre: _____ Fecha: _____


★ Cuenta los dos lados del dominó. Escribe la suma.

1



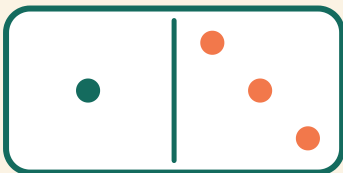
$$6 + 6 = \square$$

2




$$4 + 3 = \square$$

3



$$1 + 3 = \square$$

4



$$2 + 6 = \square$$