


Cuenta los cuadros

Nombre: _____ Fecha: _____


★ Cuenta los cuadros del rectángulo. Completa la multiplicación.

1




$3 \times 5 = \square$

2




$4 \times 4 = \square$

3



$4 \times 5 = \square$

4



$3 \times 9 = \square$