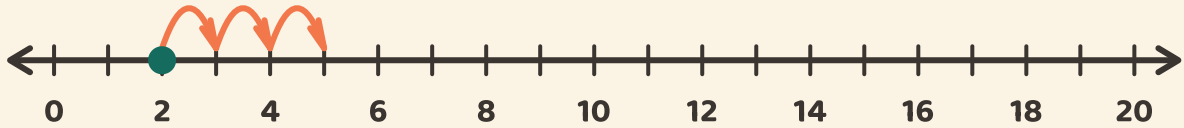


Salta por la recta

Nombre: _____ Fecha: _____

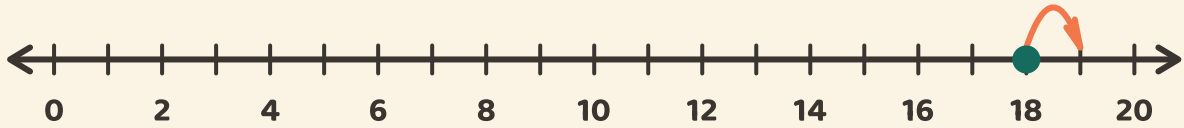
★ Empieza en el punto. Cuenta los saltos. Escribe el resultado de la suma.

1



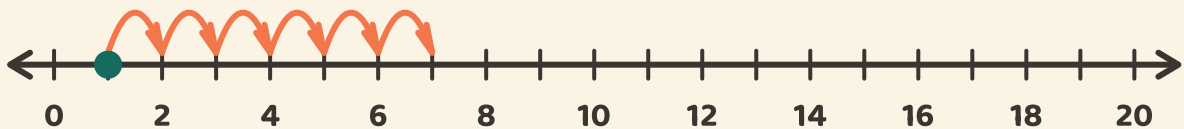
$$2 + 3 = \boxed{}$$

2



$$18 + 1 = \boxed{}$$

3



$$1 + 6 = \boxed{}$$